


Inženjerska grafika Grafički rad VI

Prezime i ime	Paunić Vanja
ID broj (broj indeksa)	01/24

1. Na osnovu modela i prema primjeru u prilogu izraditi sklopni crtež ručne dizalice (Zamijeniti poziciju i naziv Detalja A i Detalja B). Crtež je potrebno izraditi na A3 papiru sa sastavnicom.
2. Izraditi radioničke crteže pozicija **1.** i **8.** (Koristi priručnik iz mašinskih elemenata za primjer radioničkih crteža.)

Prof. dr Biljana Marković

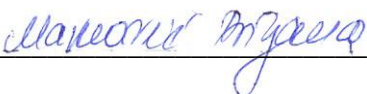


Inženjerska grafika Grafički rad VI

Prezime i ime	Balčaković Vladan
ID broj (broj indeksa)	02/24

1. Na osnovu modela i prema primjeru u prilogu izraditi sklopni crtež ručne dizalice (Zamijeniti poziciju i naziv Detalja A i Detalja B). Crtež je potrebno izraditi na A3 papiru sa sastavnicom.
2. Izraditi radioničke crteže pozicija **2.** i **7.** (Koristi priručnik iz mašinskih elemenata za primjer radioničkih crteža.)

Prof. dr Biljana Marković




Inženjerska grafika Grafički rad VI

Prezime i ime	Drašković Petar
ID broj (broj indeksa)	03/24

1. Na osnovu modela i prema primjeru u prilogu izraditi sklopni crtež ručne dizalice (Zamijeniti poziciju i naziv Detalja A i Detalja B). Crtež je potrebno izraditi na A3 papiru sa sastavnicom.
2. Izraditi radioničke crteže pozicija **3.** i **6.** (Koristi priručnik iz mašinskih elemenata za primjer radioničkih crteža.)

Prof. dr Biljana Marković




Inženjerska grafika Grafički rad VI

Prezime i ime	Radovanović Borislav
ID broj (broj indeksa)	04/24

1. Na osnovu modela i prema primjeru u prilogu izraditi sklopni crtež ručne dizalice (Zamijeniti poziciju i naziv Detalja A i Detalja B). Crtež je potrebno izraditi na A3 papiru sa sastavnicom.
2. Izraditi radioničke crteže pozicija **4.** i **1.** (Koristi priručnik iz mašinskih elemenata za primjer radioničkih crteža.)

Prof. dr Biljana Marković

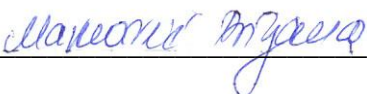


Inženjerska grafika Grafički rad VI

Prezime i ime	Sekulić Nikolina
ID broj (broj indeksa)	05/24

1. Na osnovu modela i prema primjeru u prilogu izraditi sklopni crtež ručne dizalice (Zamijeniti poziciju i naziv Detalja A i Detalja B). Crtež je potrebno izraditi na A3 papiru sa sastavnicom.
2. Izraditi radioničke crteže pozicija **5.** i **7.** (Koristi priručnik iz mašinskih elemenata za primjer radioničkih crteža.)

Prof. dr Biljana Marković




Inženjerska grafika Grafički rad VI

Prezime i ime	Antunović Nemanja
ID broj (broj indeksa)	06/24

1. Na osnovu modela i prema primjeru u prilogu izraditi sklopni crtež ručne dizalice (Zamijeniti poziciju i naziv Detalja A i Detalja B). Crtež je potrebno izraditi na A3 papiru sa sastavnicom.
2. Izraditi radioničke crteže pozicija **1.** i **4.** (Koristi priručnik iz mašinskih elemenata za primjer radioničkih crteža.)

Prof. dr Biljana Marković




Inženjerska grafika Grafički rad VI

Prezime i ime	Gigović Stefan
ID broj (broj indeksa)	07/24

1. Na osnovu modela i prema primjeru u prilogu izraditi sklopni crtež ručne dizalice (Zamijeniti poziciju i naziv Detalja A i Detalja B). Crtež je potrebno izraditi na A3 papiru sa sastavnicom.
2. Izraditi radioničke crteže pozicija **2.** i **3.** (Koristi priručnik iz mašinskih elemenata za primjer radioničkih crteža.)

Prof. dr Biljana Marković




Inženjerska grafika Grafički rad VI

Prezime i ime	Prodanović Marijana
ID broj (broj indeksa)	08/24

1. Na osnovu modela i prema primjeru u prilogu izraditi sklopni crtež ručne dizalice (Zamijeniti poziciju i naziv Detalja A i Detalja B). Crtež je potrebno izraditi na A3 papiru sa sastavnicom.
2. Izraditi radioničke crteže pozicija **4.** i **6.** (Koristi priručnik iz mašinskih elemenata za primjer radioničkih crteža.)

Prof. dr Biljana Marković




Inženjerska grafika Grafički rad VI

Prezime i ime	Spasojević Spasoje
ID broj (broj indeksa)	09/24

1. Na osnovu modela i prema primjeru u prilogu izraditi sklopni crtež ručne dizalice (Zamijeniti poziciju i naziv Detalja A i Detalja B). Crtež je potrebno izraditi na A3 papiru sa sastavnicom.
2. Izraditi radioničke crteže pozicija **1.** i **5.** (Koristi priručnik iz mašinskih elemenata za primjer radioničkih crteža.)

Prof. dr Biljana Marković




Inženjerska grafika
Grafički rad VI

Prezime i ime	Lazarević Miloš
ID broj (broj indeksa)	10/24

1. Na osnovu modela i prema primjeru u prilogu izraditi sklopni crtež ručne dizalice (Zamijeniti poziciju i naziv Detalja A i Detalja B). Crtež je potrebno izraditi na A3 papiru sa sastavnicom.
2. Izraditi radioničke crteže pozicija **8.** i **4.** (Koristi priručnik iz mašinskih elemenata za primjer radioničkih crteža.)

Prof. dr Biljana Marković

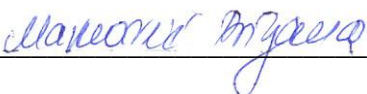


Inženjerska grafika
Grafički rad VI

Prezime i ime	Planinčević Nemanja
ID broj (broj indeksa)	11/24

1. Na osnovu modela i prema primjeru u prilogu izraditi sklopni crtež ručne dizalice (Zamijeniti poziciju i naziv Detalja A i Detalja B). Crtež je potrebno izraditi na A3 papiru sa sastavnicom.
2. Izraditi radioničke crteže pozicija **1.** i **4.** (Koristi priručnik iz mašinskih elemenata za primjer radioničkih crteža.)

Prof. dr Biljana Marković

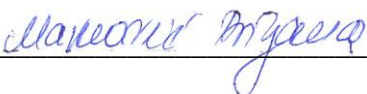


Inženjerska grafika Grafički rad VI

Prezime i ime	Gavrilović Kristijan
ID broj (broj indeksa)	12/24

1. Na osnovu modela i prema primjeru u prilogu izraditi sklopni crtež ručne dizalice (Zamijeniti poziciju i naziv Detalja A i Detalja B). Crtež je potrebno izraditi na A3 papiru sa sastavnicom.
2. Izraditi radioničke crteže pozicija **5.** i **2.** (Koristi priručnik iz mašinskih elemenata za primjer radioničkih crteža.)

Prof. dr Biljana Marković




Inženjerska grafika Grafički rad VI

Prezime i ime	Majdov Mateja
ID broj (broj indeksa)	13/24

1. Na osnovu modela i prema primjeru u prilogu izraditi sklopni crtež ručne dizalice (Zamijeniti poziciju i naziv Detalja A i Detalja B). Crtež je potrebno izraditi na A3 papiru sa sastavnicom.
2. Izraditi radioničke crteže pozicija **2.** i **4.** (Koristi priručnik iz mašinskih elemenata za primjer radioničkih crteža.)

Prof. dr Biljana Marković



Mateja Majdov

Inženjerska grafika Grafički rad VI

Prezime i ime	Marković Ivona
ID broj (broj indeksa)	14/24

1. Na osnovu modela i prema primjeru u prilogu izraditi sklopni crtež ručne dizalice (Zamijeniti poziciju i naziv Detalja A i Detalja B). Crtež je potrebno izraditi na A3 papiru sa sastavnicom.
2. Izraditi radioničke crteže pozicija **1.** i **3.** (Koristi priručnik iz mašinskih elemenata za primjer radioničkih crteža.)

Prof. dr Biljana Marković




Inženjerska grafika Grafički rad VI

Prezime i ime	Vičić Milan
ID broj (broj indeksa)	15/24

1. Na osnovu modela i prema primjeru u prilogu izraditi sklopni crtež ručne dizalice (Zamijeniti poziciju i naziv Detalja A i Detalja B). Crtež je potrebno izraditi na A3 papiru sa sastavnicom.
2. Izraditi radioničke crteže pozicija **5.** i **3.** (Koristi priručnik iz mašinskih elemenata za primjer radioničkih crteža.)

Prof. dr Biljana Marković




Inženjerska grafika Grafički rad VI

Prezime i ime	Njego Lazar
ID broj (broj indeksa)	18/24

1. Na osnovu modela i prema primjeru u prilogu izraditi sklopni crtež ručne dizalice (Zamijeniti poziciju i naziv Detalja A i Detalja B). Crtež je potrebno izraditi na A3 papiru sa sastavnicom.
2. Izraditi radioničke crteže pozicija **2.** i **4.** (Koristi priručnik iz mašinskih elemenata za primjer radioničkih crteža.)

Prof. dr Biljana Marković




Inženjerska grafika Grafički rad VI

Prezime i ime	Savić Đorđe
ID broj (broj indeksa)	21/24

1. Na osnovu modela i prema primjeru u prilogu izraditi sklopni crtež ručne dizalice (Zamijeniti poziciju i naziv Detalja A i Detalja B). Crtež je potrebno izraditi na A3 papiru sa sastavnicom.
2. Izraditi radioničke crteže pozicija **6.** i **7.** (Koristi priručnik iz mašinskih elemenata za primjer radioničkih crteža.)

Prof. dr Biljana Marković




Inženjerska grafika Grafički rad VI

Prezime i ime	Bošnjak Bojan
ID broj (broj indeksa)	22/24

1. Na osnovu modela i prema primjeru u prilogu izraditi sklopni crtež ručne dizalice (Zamijeniti poziciju i naziv Detalja A i Detalja B). Crtež je potrebno izraditi na A3 papiru sa sastavnicom.
2. Izraditi radioničke crteže pozicija **2.** i **5.** (Koristi priručnik iz mašinskih elemenata za primjer radioničkih crteža.)

Prof. dr Biljana Marković

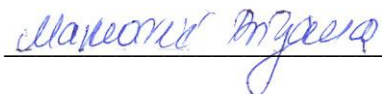


Inženjerska grafika Grafički rad VI

Prezime i ime	Vukadinović Danilo
ID broj (broj indeksa)	24/24

1. Na osnovu modela i prema primjeru u prilogu izraditi sklopni crtež ručne dizalice (Zamijeniti poziciju i naziv Detalja A i Detalja B). Crtež je potrebno izraditi na A3 papiru sa sastavnicom.
2. Izraditi radioničke crteže pozicija **1.** i **6.** (Koristi priručnik iz mašinskih elemenata za primjer radioničkih crteža.)

Prof. dr Biljana Marković



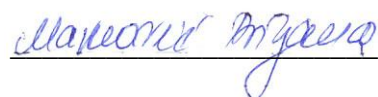
Inženjerska grafika Grafički rad VI

Prezime i ime	Moravac Anđela
ID broj (broj indeksa)	25/24

1. Na osnovu modela i prema primjeru u prilogu izraditi sklopni crtež ručne dizalice (Zamijeniti poziciju i naziv Detalja A i Detalja B). Crtež je potrebno izraditi na A3 papiru sa sastavnicom.

2. Izraditi radioničke crteže pozicija **1.** i **5.** (Koristi priručnik iz mašinskih elemenata za primjer radioničkih crteža.)

Prof. dr Biljana Marković



Inženjerska grafika Grafički rad VI

Prezime i ime	Okiljević Stefan
ID broj (broj indeksa)	26/24

1. Na osnovu modela i prema primjeru u prilogu izraditi sklopni crtež ručne dizalice (Zamijeniti poziciju i naziv Detalja A i Detalja B). Crtež je potrebno izraditi na A3 papiru sa sastavnicom.
2. Izraditi radioničke crteže pozicija **2.** i **6.** (Koristi priručnik iz mašinskih elemenata za primjer radioničkih crteža.)

Prof. dr Biljana Marković

